

# **SALA DE RECURSOS MULTIFUNCIONAL**

**ESCOLA MUNICIPAL PROFESSOR SEBASTIÃO FELTRIN**

**PROFESSORAS: MARCIA NOVAESTURMA: A**

**COMPONENTES CURRICULARES: 3º ANO - LÍNGUA PORTUGUESA E MATEMÁTICA**

**DATA DA REALIZAÇÃO: DE 16 a 22 de outubro de 2020**

**ALUNO (A): \_\_\_\_\_ TURMA: \_\_\_\_\_**



**Senhores Pais e Responsáveis**

Vocês estão recebendo as **ATIVIDADES COMPLEMENTARES DE ESTUDO PARA O PERÍODO DE ISOLAMENTO – COVID 19**, referente a semana de 16 a 22 de outubro de 2020. Contamos com sua participação para que todas essas atividades sejam realizadas pelo seu filho.

No roteiro a seguir estão as atividades e todas as orientações para sua execução. Tudo está descrito de forma simples. Qualquer dúvida estarei à disposição no Whats App.





Abraços,

Professora MÁRCIA


<b>VÍDEO OU ÁUDIO DA EXPLICAÇÃO DA PROFª.</b>	➤ Assista ao Vídeo/ áudio explicativo da professora.
<b>O QUE VAI ESTUDAR?</b>	<b>Língua Portuguesa e Matemática</b> Leitura e escrita, ortografia, palavras com S e SS Numeração até 100, percepção visual, raciocínio, atenção
<b>PARA QUÊ VAMOS ESTUDAR ESSES CONTEÚDOS?</b>	Treinar a leitura e aprender a escrever corretamente palavras com S e SS Desenvolver atenção e raciocínio na troca dos códigos pela letra correspondente Para relembrar numeração até 100, estimulando o raciocínio a descobrir os números escondidos
<b>COMO VAMOS ESTUDAR ESSES CONTEÚDOS</b>	Preenchendo completamente com atenção o módulo e tirando dúvidas com a professora
<b>COMO VAMOS REGISTRAR O QUE APRENDEMOS?</b>	Realizando com capricho as atividades e verificando se não deixou nenhuma atividade sem fazer Devolver os roteiros preenchidos na escola para correção

**LÍNGUA PORTUGUESA E MATEMÁTICA**

1) Junte as sílabas, veja cada palavra que se formou e escreva-as nos quadros correspondentes.



Ligue os desenhos as palavras correspondentes.





















ESTRELA SALSICHA RAPOSA VASO TRAVESSEIRO ESCOVA ÓCULOS SACOLA

- Decifre os códigos e descubra o nome de cada desenho em cada quadro, assinalando-o:


<b>A</b>	<b>T</b>	<b>I</b>	<b>R</b>	<b>O</b>	<b>N</b>	<b>U</b>	<b>P</b>	<b>F</b>
<b>E</b>	<b>S</b>	<b>Á</b>	<b>V</b>	<b>B</b>	<b>Ê</b>	<b>G</b>	<b>M</b>	<b>U</b>

									<b>17</b>	
									<b>70</b>	


ATENÇÃO ESSES ANIMAIZINHOS ESTÃO EM CIMA DE ALGUNS NÚMEROS, DESCUBRA QUAIS NÚMEROS CADA MINHOQUINHA ESTÁ ESCONDENDO E COPIE.


1	2	3	4	5		7	8	9	
11	12	13		15		18	19		
21	22	23	24		26	27	28		
31				35	36		38	39	40
41				45		47	48	49	50
	52	53	54	55		57	58	59	60
61		63	64	65				69	70
		73	74		76	77	78	79	80
81	82			84			88		
		93		95	96		98		

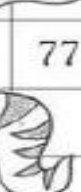
6	
16	17

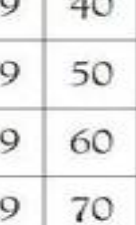
	


	
--	---


		

**BONS ESTUDOS!**